
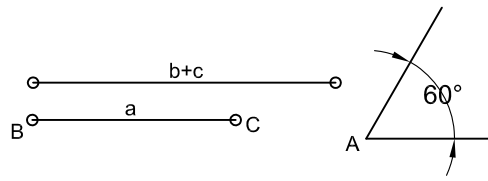
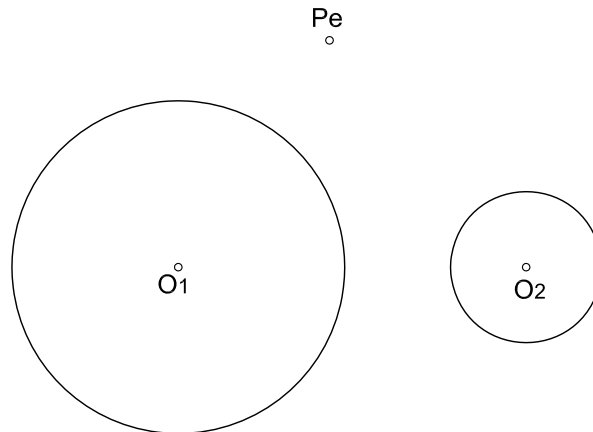


CONSTRUIR UN TRIÁNGULO ESCALENO DADO EL LADO a EL ÁNGULO OPUESTO A Y LA SUMA DE LOS OTROS DOS $b+c$



CIRCUNFERENCIA TANGENTES A DOS CIRCUNFERENCIAS Y QUE PASEN POR UN PUNTO EXTERIOR. INDICAR EL PROCEDIMIENTO UTILIZADO Y DEFINICIÓN DE LOS LUGARES GEOMETRICOS EN EL SUPUESTO QUE SEAN UTILIZADOS.



| NOTA | DIBUJADO | FECHA | NOMBRE APELLIDOS |
|------|----------|-------|------------------|
| | | | |
| | | | |