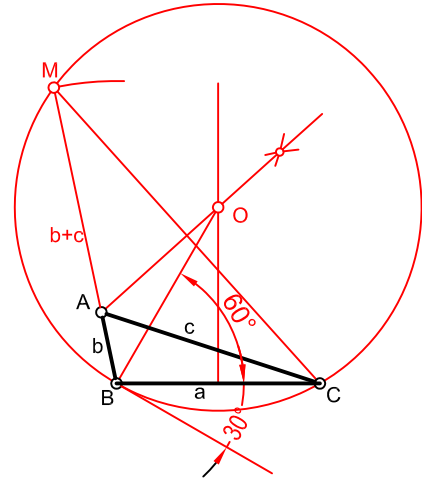
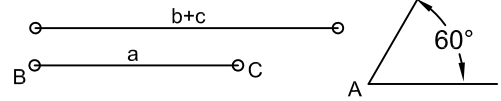
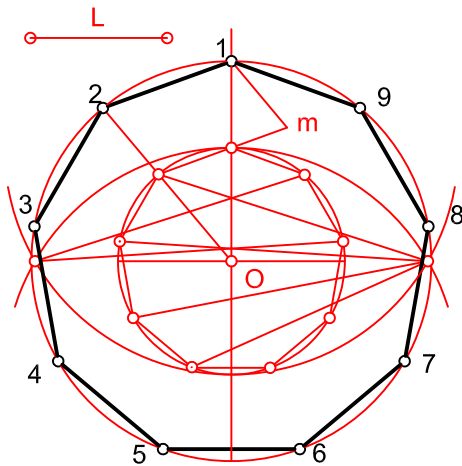


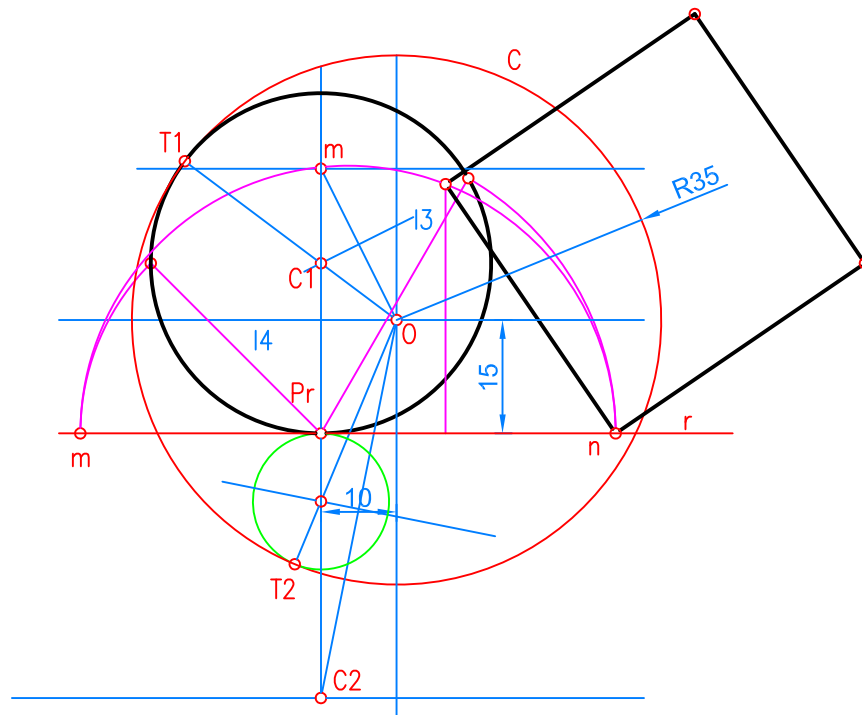
DADO EL LADO l , HALLAR POR SEMEJANZA EL ENEÁGONO CORRESPONDIENTE.

CONSTRUIR UN TRIÁNGULO ESCALENO DADO EL LADO a EL ÁNGULO OPUESTO A Y LA SUMA DE LOS OTROS DOS $b+c$



SE DA LA CIRCUNFERENCIA DE CENTRO C Y UN PUNTO Pr SOBRE LA RESTA R . SE PIDE:

- OBTENCIÓN DE LAS CIRCUNFERENCIAS TANGENTES SIMULTÁNEAMENTE A LAS CIRCUNFERENCIA C Y A LA RECTA r EN EL PUNTO Pr .
- EL CUADRADO EQUIVALENTE AL CIRCULO DELIMITADO POR LA CIRCUNFERENCIA SOLUCIÓN MAYOR, OBTENIDA ANTERIORMENTE.



NOTA	DIBUJADO	FECHA	NOMBRE APELLIDOS