
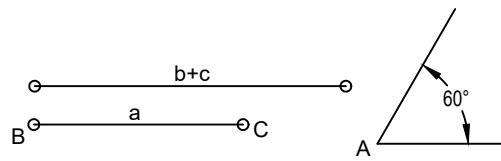
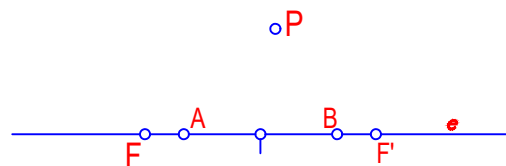


2. CONSTRUIR UN TRIÁNGULO ESCALENO DADO EL LADO a EL ÁNGULO OPUESTO A Y LA SUMA DE LOS OTROS DOS $b+c$



4.-TRAZAR LAS RECTAS TANGENTES DE LA HIPÉRBOLA DESDE EL PUNTO EXTERIOR "P". SEGUIDAMENTE HALLAR TRES PUNTOS DE LA MISMA.



CRITERIOS DE EVALUACIÓN:
 EJERCICIO 1.- 3,5 PUNTOS
 EJERCICIO 2.- 2,5 PUNTOS
 EJERCICIO 3.- 2 PUNTOS
 EJERCICIO 4.- 2 PUNTOS.

NOTA	DIBUJADO	FECHA	NOMBRE APELLIDOS	I.E.S. " FLORIDABLANCA" MURCIA
SEGUNDO DE BACHILLERATO PRIMERA EVALUACIÓN				