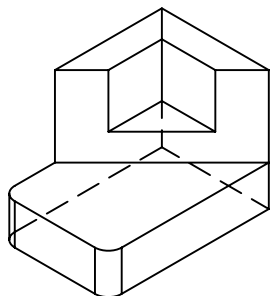
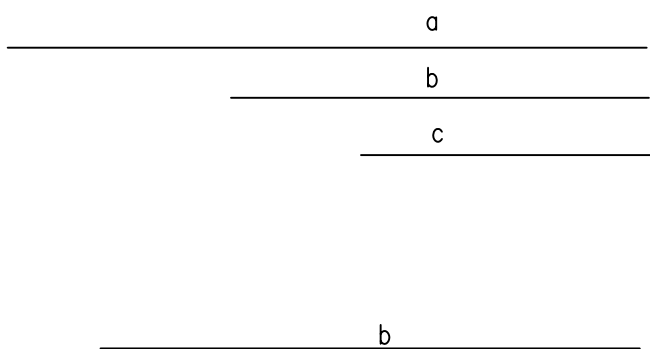


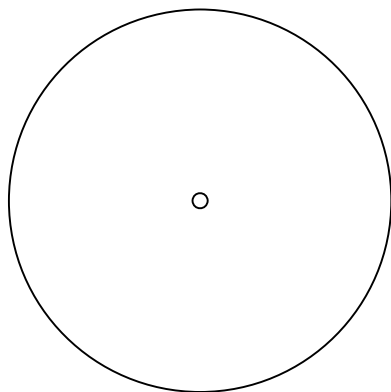
DIBUJAR LAS VISTAS DIÉDRICAS DE LA PIEZA INDICADA (CROQUIS). SE REALIZARÁ A MANO ALZADA. SE TENDRÁ ESPECIAL CUIDADO CON LAS ARISTAS OCULTAS Y LAS PROPORCIONES.



2.- DIBUJA UN TRIÁNGULO EN EL QUE SE DAN LOS TRES LADOS. a, b y c.



CONSTRUYE UN POLIGONO ESTRELLADO DE SEIS PUNTAS Y COLOREALO A TU GUSTO.



NOTA	DIBUJADO	FECHA	NOMBRE APELLIDOS
TERCERO DE LA ESO LÁMINA 14			