



1.- Dados los lados, a, b, c, y d, construye el triángulo.



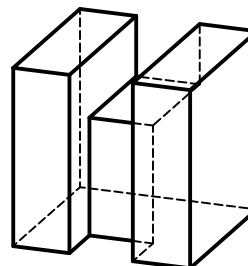
2.- Realiza una composición a base de triángulos equiláteros de 30 de lado dentro del rectángulo indicado.



3. Divide el segmento **AB**, en siete partes iguales.



4. Realiza el croquis de la pieza dada por sus proyecciones diédricas.



NOTA	DIBUJADO	FECHA	NOMBRE APELLIDOS	I.E.S. FLORIDABLANCA MURCIA
PRIMERO DE E.S.O. EVALUACION JUNIO				