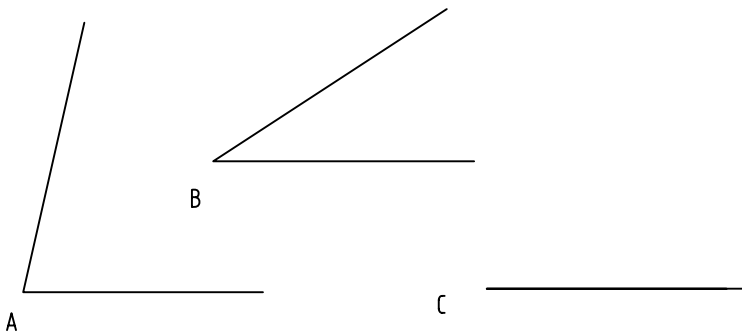
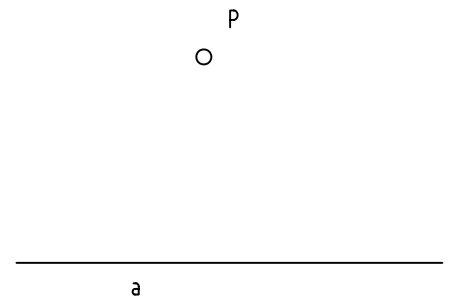



1.- HACIENDO USO DEL COMPÁS, RESTA LOS ÁNGULOS DE VERTICE A Y B INDICADOS.



2.- HACIENDO USO DEL COMPAS, TRAZA LA RECTA PERPENDICULAR A LA RECTA "a" QUE PASE POR UN PUNTO EXTERIOR "P"



3.- HACIENDO USO DEL COMPÁS SUMA LOS SEGMENTOS "a" Y "b"



4.- POR MEDIO DE LA ESCUADRA Y EL CARTABÓN, DIBUJA UN ÁNGULO DE 30°



5.-POR MEDIO DE CIRCUNFERENCIAS CONCENTRICAS Y SECANTES REALIZA UNA COMPOSICIÓN GEOMÉTRICA BASADA EN LA PLANTILLA ABAJO INDICADA, SEGUIDAMENTE DECORALA POR MEDIO DE LÁPICES DE COLORES.


NOTA	DIBUJADO	FECHA	NOMBRE APELLIDOS	
PRIMERO DE LA ESO				