

OPCIÓN II

PROBLEMA: SISTEMA CÓNICO

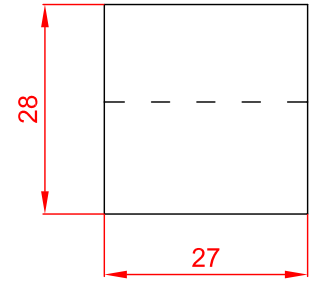
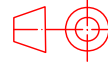
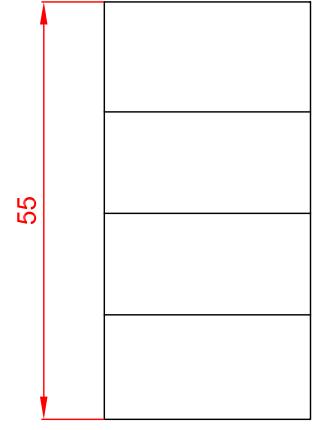
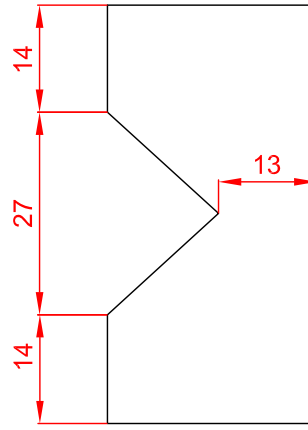
Definido el sistema cónico por la línea de tierra L.T., la línea de horizonte L.H., el punto principal P y el abatimiento sobre el plano del cuadro del punto de vista (V), dibujar la perspectiva cónica a escala 2:1 del sólido dado por sus vistas, según el sistema de representación del primer diedro de proyección a escala 2:1, sabiendo que dicha figura está apoyada en el plano geometral, en la posición indicada en el abatimiento de su planta sobre el plano del cuadro.

(V)

P

LH

LT



NOTA	DIBUJADO	FECHA	NOMBRE APELLIDOS