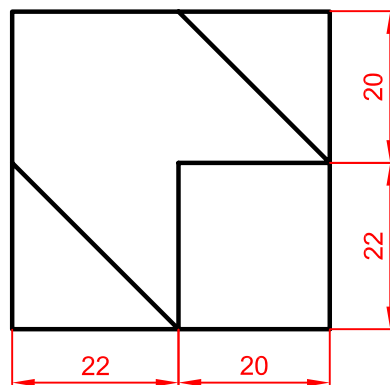
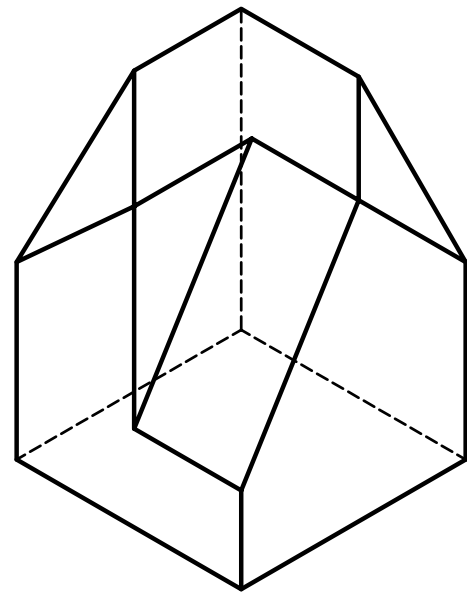
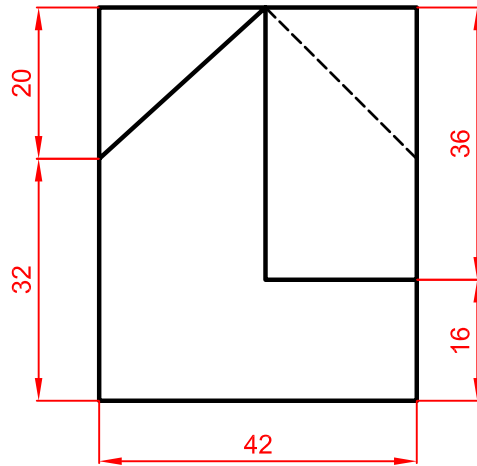


OPCIÓN I

EJERCICIO1º: NORMALIZACIÓN

Dada la proyección axonométrica isométrica de una pieza a escala 1:1, se pide:

1. Obtener las vistas de alzado y planta, a escala 1.1, según el método de representación del primer diedro de proyección.
2. Acotar las vistas según normas



NOTA: PARA LA ACOTACIÓN DE LA PIEZA SE HA TENIDO EN CUENTA QUE LA PERSPECTIVA TIENE UNA REDUCCIÓN DE 0,816

NOTA	DIBUJADO	FECHA	NOMBRE APELLIDOS