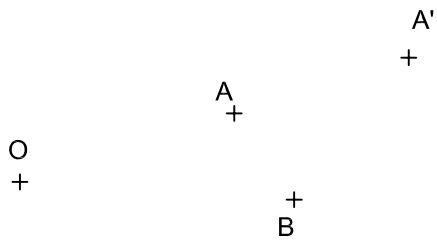
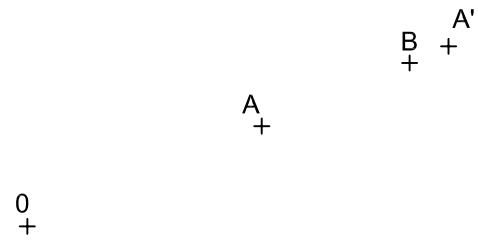


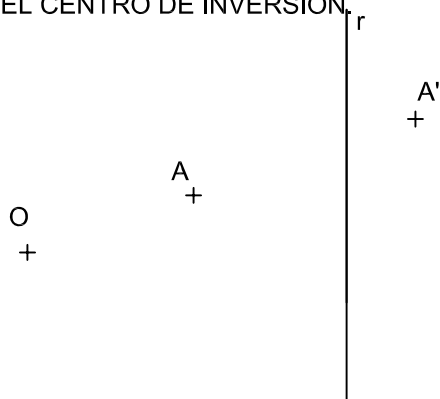
HALLAR EL INVERSO B' DE UN PUNTO B, CONOCIENDO EL CENTRO DE INVERSIÓN O Y UN PAR DE DE PUNTOS INVERSOS A Y A'.



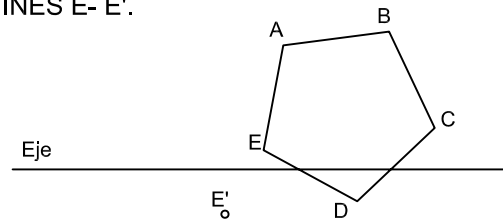
HALLAR EL INVERSO B' DE UN PUNTO B, CONOCIENDO EL CENTRO DE INVERSIÓN O Y UN PAR DE PUNTOS INVERSOS A Y A' ALINEADOS CON B.



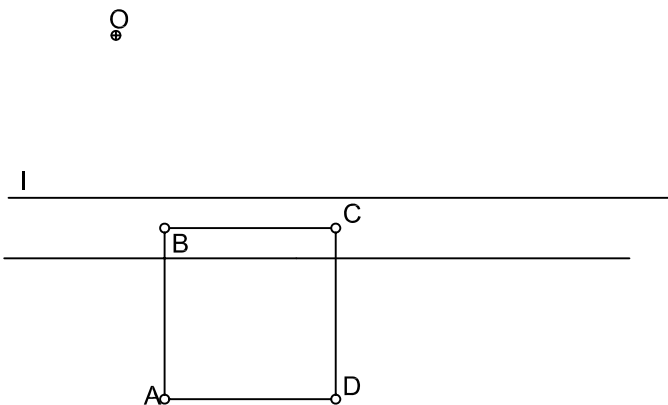
DADO EL CENTRO DE INVERSIÓN O Y UN PAR DE PUNTOS INVERSOS A Y A'; HALLAR LA FIGURA INVERSA DE UNA RECTA "r" QUE NO PASA POR EL CENTRO DE INVERSIÓN.



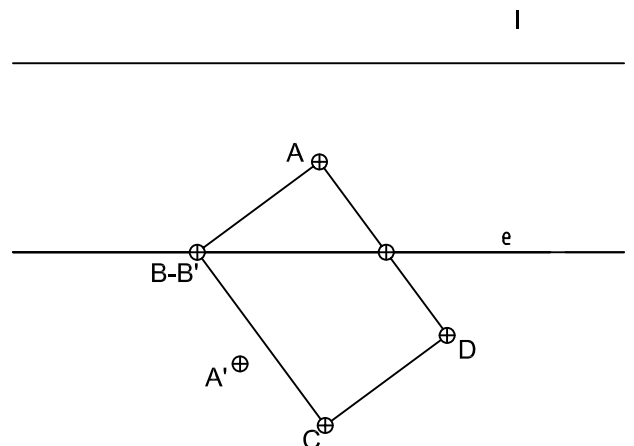
DETERMINAR LA FIGURA AFIN DEL PENTAGONO A,B,C,D,E, DADO EL EJE Y UN PAR DE PUNTOS AFINES E- E'.



HALLAR LA FIGURA HOMÓLOGA DE LA DADA.



EN LA HOMOLOGIA DADA, HALLAR LA FIGURA HOMOLOGA DEL RECTÁNGULO ABCD.



© 2008 www.ramonedelaguila.com

NOTA	DIBUJADO	FECHA	NOMBRE APELLIDOS
SEGUNDO DE BACHILLERATO LÁMINA Nº 5			