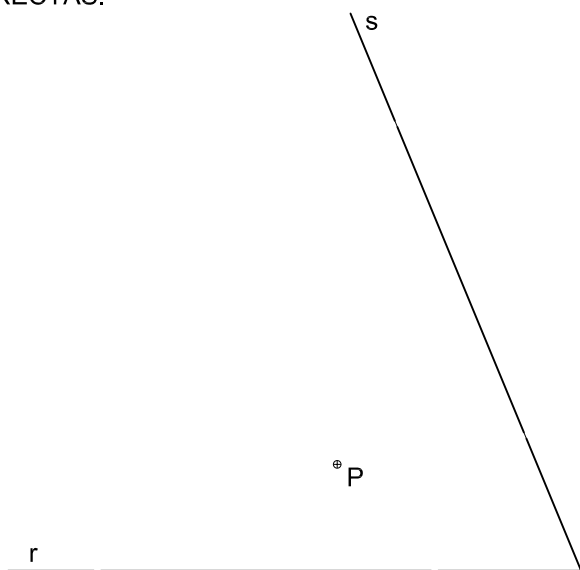
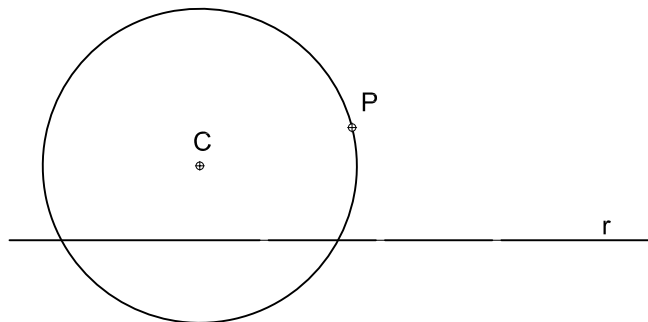


SE DAN LAS RECTAS "r" Y "s" Y UN PUNTO "P", SE PIDE: DETERMINACIÓN DE LAS CIRCUNFERENCIAS QUE PASANDO POR "P" SEAN TANGENTES SIMULTANEAMENTE A AMBAS RECTAS.

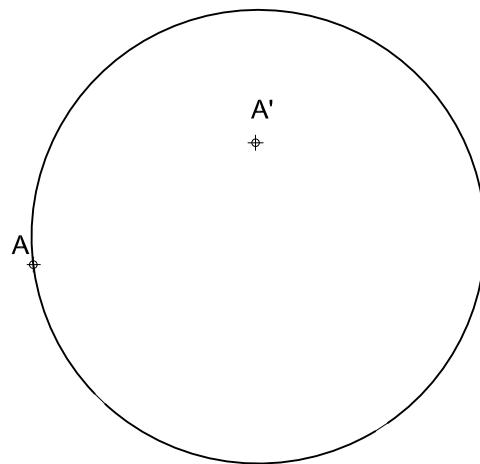
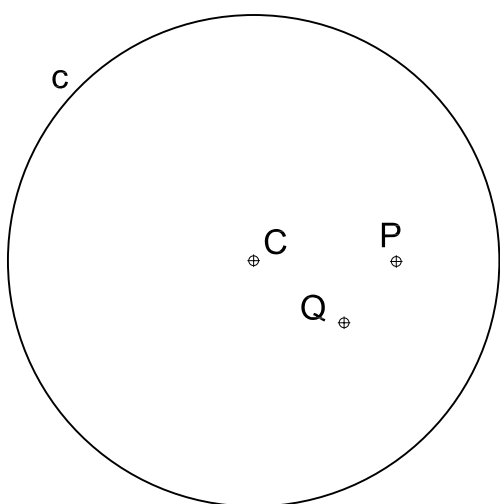


TRAZAR LAS CIRCUNFERENCIAS TANGENTES A LA RECTA - r - Y A LA CIRCUNFERENCIA "c" QUE PASEN POR EL PUNTO "P"..

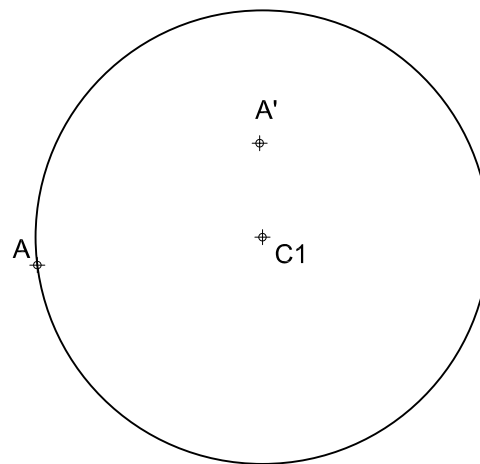


DIBUJAR LA CIRCUNFERENCIA INVERSA DE LA DADA.

TRAZAR LAS CIRCUNFERENCIAS TANGENTES A LA CIRCUNFERENCIA "c" Y QUE PASEN POR LOS PUNTOS "P" Y "Q", INTERIORES A LA MISMA.



Segundo procedimiento



NOTA	DIBUJADO	FECHA	NOMBRE APELLIDOS
SEGUNDO DE BACHILLERATO LÁMINA Nº 6			